

INSTRUMENTO DE AVALIAÇÃO

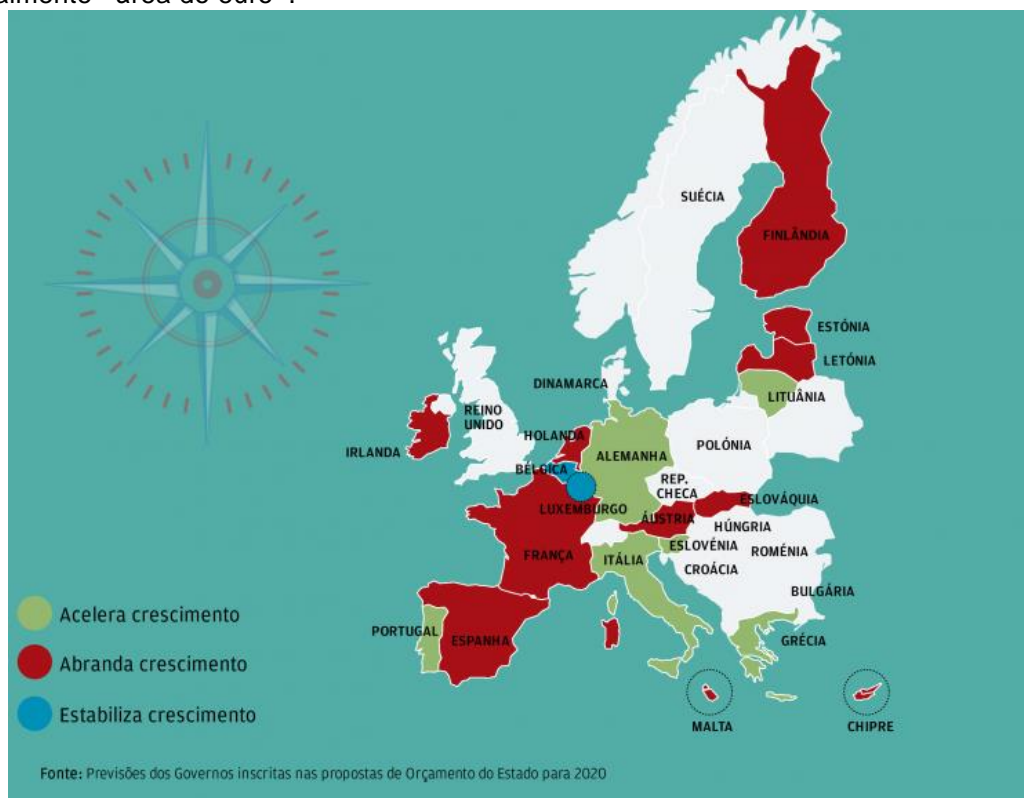
CURSO:	Operador/a de Logística	ANO:	2	DATA:	___/___/2020
DISCIPLINA:	Atividades Económicas				
MÓDULO (S) N.º(S):	4	DESIGNAÇÃO (ÕES):	O Consumo e os Consumidores		
NOME DO ALUNO/A:				NÚMERO:	
PROFESSOR/A:	Antónia Ribeiro			CLASSIFICAÇÃO:	

TESTE DIAGNÓSTICO		TESTE DE AVALIAÇÃO		TRABALHO PRÁTICO	
EXAME		FICHA DE TRABALHO	X	TEXTOS DE APOIO	
OUTRO					

Países que usam o euro €

1-O euro é o símbolo mais concreto da integração europeia: cerca de 341 milhões de pessoas usam-no todos os dias, o que o torna a segunda moeda mais utilizada em todo o mundo. As suas vantagens são óbvias para qualquer pessoa que viaje para o estrangeiro ou faça compras pela Internet através de sítios estabelecidos noutro país da UE.

Atualmente, o euro (€) **é a moeda oficial de 19 dos 27 países da UE**, que juntos constituem a zona euro, denominada oficialmente «área do euro».



1.1- **Identifica os 19 países** da União Europeia (na tabela que se segue) que adotaram a moeda do euro (utiliza o mapa apresentado).

1-	5-	9-	13-	17-
2-	6-	10-	14-	18-
3-	7-	11-	15-	19-
4-	8-	12-	16-	

1.2- Refere os países onde a moeda do euro abrandou o crescimento económico (observa o mapa apresentado).

1.3- Identifica qual a situação de Portugal e dá uma razão que explique a tua opinião.

2- “Coronavírus poderá ser a epidemia com maior impacto de sempre na economia”

6 Março 2020, 20:41

O impacto do novo coronavírus na economia mundial é o maior de sempre provocado por uma epidemia. Um estudo do Citibank, divulgado pelo Jornal de Negócios, aponta para um impacto negativo de, pelo menos, 43 mil milhões de euros. Esta pode ser uma estimativa conservadora, dado o efeito que está a ter, por exemplo, **no setores do turismo e da aviação**.

A anterior epidemia da Síndrome Respiratória Aguda Grave que afetou o mundo entre novembro de 2002 e março de 2003, teve um impacto negativo de cerca de 40.200 milhões de euros.

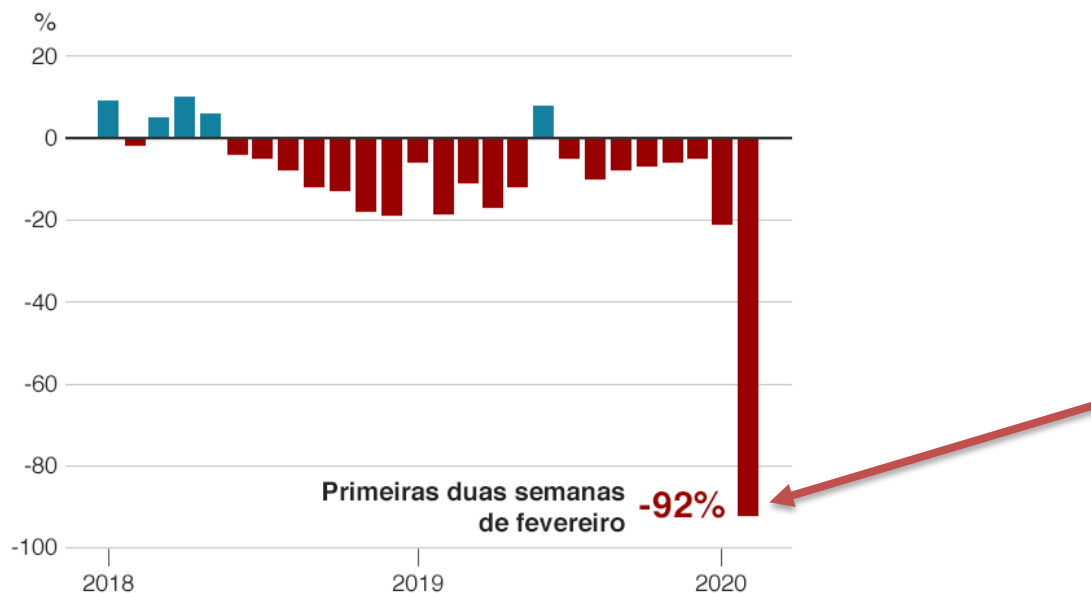
De acordo com o mesmo estudo, o coronavírus pode cortar 0,25 pontos percentuais ao crescimento económico mundial este ano.

A Síndrome Respiratória Aguda Grave tinha tirado 0,1 pontos percentuais ao crescimento mundial.

Vários países estão agora a anunciar

pacotes de apoio financeiro às empresas para minimizar os impactos do coronavírus, mas a recuperação desta crise pode ser mais demorada.

Vendas de carros despencaram na China



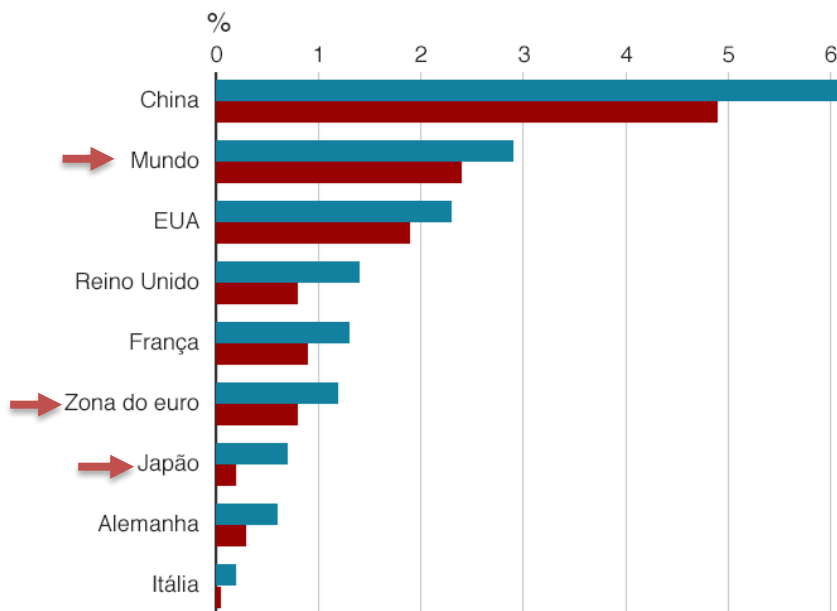
Fonte: Associação Chinesa de Carros de Passageiros

BBC

OCDE reduz previsões de crescimento

PIB deve desacelerar em 2020

■ Crescimento em 2019 ■ Crescimento previsto para 2020



Fonte: OCDE

BBC

¹ PIB – Produto Interno Bruto, corresponde ao conjunto de todos os bens e serviços produzidos dentro das fronteiras de uma região ou país

2.1- **Identifica** o setor de atividade a que pertencem o Turismo e a Aviação. _____

2.2- Após a leitura da notícia **explica** o porquê de ser os setores do Turismo e da aviação os mais afetados com esta pandemia do Coronavírus? _____

2.3- Anteriormente foram apresentados 2 gráficos onde se pode observar alguns impactos económicos, não só ao nível da venda de carros como nas “ideias” do crescimento económico previstas para alguns países.

2.3.1- Na tua opinião, **o que levou à descida** tão acentuada na venda de carros? _____

2.3.2- **Refere 2 medidas**, de *caracter económico*, que possam reduzir estas descidas? _____

“Estar decidido, acima de qualquer coisa, é o segredo do êxito.”

Henry Ford

Bom trabalho a todos

