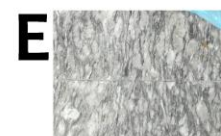
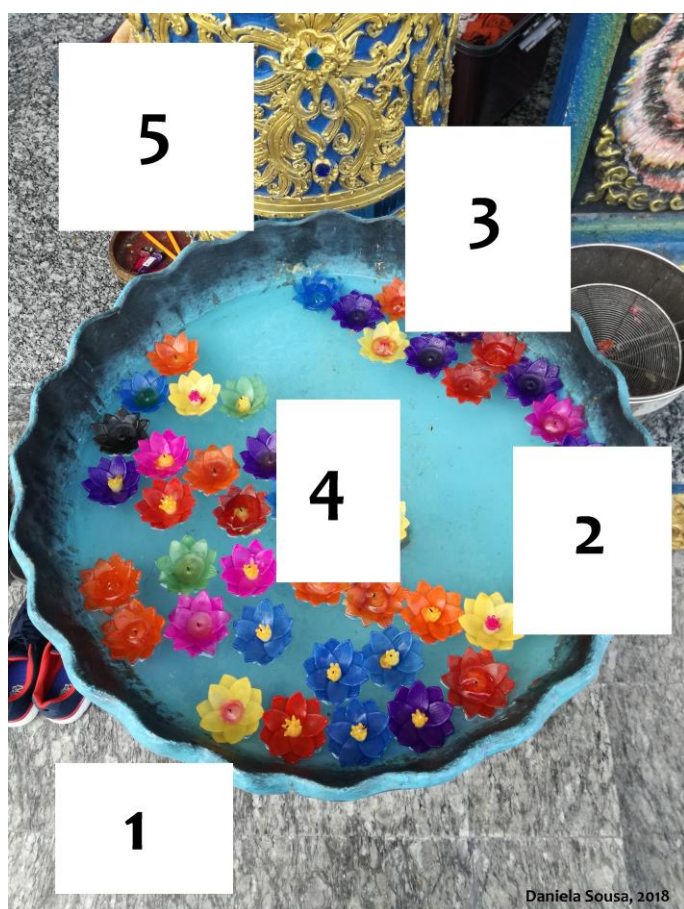


Desafio Cognitivo I – Atenção e Percepção

Exemplo - Instrução:

Observe atentamente a imagem seguinte e faça a correspondência entre as partes designadas por letras e os espaços numerados.



Resposta: A 5 B C D 4 E

Descubra a localização que corresponde a esta imagem:

A) Templo Azul
(Chiang Rai,
Tailândia)

B) Parque Nacional da
Peneda-Gerês
(Portugal)

C) Jardim Botânico,
(Funchal, Portugal)

Desafio Cognitivo I – Atenção e Percepção

1. Instrução: Observe atentamente a imagem seguinte e faça a correspondência entre as partes designadas por letras e os espaços numerados.





Resposta: A _____ B _____

Descubra a localização que corresponde a esta imagem: _____

A) Dubai (Emirados Árabes Unidos)	B) Vila Nova de Cerveira (Portugal)	C) Hong Island (Tailândia)
--------------------------------------	--	-------------------------------

Desafio Cognitivo I – Atenção e Percepção

2. Instrução: Observe atentamente a imagem seguinte e faça a correspondência entre as partes designadas por letras e os espaços numerados.



A



B


Resposta: A _____ B _____

Descubra a localização que corresponde a esta imagem: _____


A) Dubai (Emirados Árabes Unidos)	B) Vila Nova de Cerveira (Portugal)	C) Hong Island (Tailândia)
--------------------------------------	-------------------------------------	-------------------------------

Desafio Cognitivo I – Atenção e Percepção

3. Instrução: Observe atentamente a imagem seguinte e faça a correspondência entre as partes designadas por letras e os espaços numerados.



A



B



C


Resposta: A _____ B _____ C _____

Descubra a localização que corresponde a esta imagem: _____

A) Veneza (Itália)	B) Chiang Mai (Tailândia)	C) Praia dos Anjos (Madeira, Portugal)
--------------------	---------------------------	--

Desafio Cognitivo I – Atenção e Percepção

4. Instrução: Observe atentamente a imagem seguinte e faça a correspondência entre as partes designadas por letras e os espaços numerados.



A



B



C


Resposta: A _____ B _____ C _____

Descubra a localização que corresponde a esta imagem: _____

A) Templo Azul (Chiang Rai, Tailândia)	B) Parque Nacional da Peneda-Gerês (Portugal)	C) Jardim Botânico (Funchal, Portugal)
---	---	---

Desafio Cognitivo I – Atenção e Percepção

5. Instrução: Observe atentamente a imagem seguinte e faça a correspondência entre as partes designadas por letras e os espaços numerados.



A



B



C



D


Resposta: A _____ B _____ C _____ D _____

Descubra a localização que corresponde a esta imagem: _____

A) Ayutthaya (Tailândia)	B) Parque Nacional da Peneda-Gerês (Portugal)	C) Jardim Botânico, (Funchal, Portugal)
-----------------------------	---	--

Desafio Cognitivo I – Atenção e Percepção

6. Instrução: Observe atentamente a imagem seguinte e faça a correspondência entre as partes designadas por letras e os espaços numerados.



A



C



B



D

Resposta: A _____ B _____ C _____ D _____

Descubra a localização que corresponde a esta imagem: _____


A) Festa da Flor
(Funchal, Portugal)

B) Manaus
(Amazonas, Brasil)

C) Águeda (Portugal)

Desafio Cognitivo I – Atenção e Percepção

7. Instrução: Observe atentamente a imagem seguinte e faça a correspondência entre as partes designadas por letras e os espaços numerados.



Resposta: A _____ B _____ C _____ D _____ E _____

Descubra a localização que corresponde a esta imagem: _____

A) Dubai (Emirados Árabes Unidos)	B) Vila Nova de Cerveira (Portugal)	C) Hong Island (Tailândia)
--------------------------------------	-------------------------------------	-------------------------------

Desafio Cognitivo I – Atenção e Percepção

8. Instrução: Observe atentamente a imagem seguinte e faça a correspondência entre as partes designadas por letras e os espaços numerados.



Resposta: A _____ B _____ C _____ D _____ E _____

Descubra a localização que corresponde a esta imagem: _____


A) Festa da Flor (Funchal, Portugal)	B) Manaus (Amazonas, Brasil)	C) Águeda (Portugal)
---	---------------------------------	----------------------

Desafio Cognitivo I – Atenção e Percepção

9. Instrução: Observe atentamente a imagem seguinte e faça a correspondência entre as partes designadas por letras e os espaços numerados.



A



D



B



E



C



F

Resposta: A _____ B _____ C _____ D _____ E _____ F _____

Descubra a localização que corresponde a esta imagem: _____



A) Veneza (Itália)

B) Chiang Mai
(Tailândia)

C) Praia dos Anjos
(Madeira, Portugal)

Desafio Cognitivo I – Atenção e Percepção

10. Instrução: Observe atentamente a imagem seguinte e faça a correspondência entre as partes designadas por letras e os espaços numerados.



Resposta: A _____ B _____ C _____ D _____ E _____ F _____

Descubra a localização que corresponde a esta imagem: _____

A) Veneza (Itália)	B) Chiang Mai (Tailândia)	C) Praia dos Anjos (Madeira, Portugal)
--------------------	---------------------------	--

Desafio Cognitivo I – Atenção e Percepção

11. Instrução: Observe atentamente a imagem seguinte e faça a correspondência entre as partes designadas por letras e os espaços numerados.



A



E



B



F



C



G



D

Resposta: A _____ B _____ C _____ D _____ E _____ F _____ G _____

Descubra a localização que corresponde a esta imagem: _____


A) Festa da Flor
(Funchal, Madeira)

B) Manaus
(Amazonas, Brasil)

C) Águeda (Portugal)

Desafio Cognitivo I – Atenção e Percepção

12. Instrução: Observe atentamente a imagem seguinte e faça a correspondência entre as partes designadas por letras e os espaços numerados.



Resposta: A _____ B _____ C _____ D _____ E _____ F _____ G _____

Descubra a localização que corresponde a esta imagem: _____

A) Templo Azul, Chiang Rai, Tailândia	B) Parque Nacional da Peneda-Gerês, Portugal	C) Jardim Botânico, Funchal, Madeira, Portugal
--	--	--